

106年國中教育會考

社會科試題本

請不要翻到次頁！

讀完本頁的說明，聽從監試委員的指示才開始作答！

※ 請先確認你的答案卡、准考證與座位號碼是否一致無誤。

請閱讀以下測驗作答說明：

測驗說明：

這是國中教育會考社會科試題本，試題本採雙面印刷，共 13 頁，有 63 題選擇題，每題都只有一個正確或最佳的答案。測驗時間從 08:30 到 09:40，共 70 分鐘。作答開始與結束請聽從監試委員的指示。

注意事項：

1. 所有試題均為四選一的選擇題，答錯不倒扣。
2. 試題中所附圖形，如有附上比例尺，以比例尺為依據作答；若無比例尺，則該圖僅作為參考，不代表實際大小。
3. 可利用試題本中空白部分計算，切勿在答案卡上計算。
4. 依試場規則規定，答案卡上不得書寫姓名座號，也不得作任何標記。故意汙損答案卡、損壞試題本，或在答案卡上顯示自己身分者，該科考試不予計列等級。

作答方式：

請依照題意從四個選項中選出一個正確或最佳的答案，並用 **2B** 鉛筆在答案卡上相應的位置畫記，請務必將選項塗黑、塗滿。如果需要修改答案，請使用橡皮擦擦拭乾淨，重新塗黑答案。例如答案為 **B**，則將 **Ⓐ** 選項塗黑、塗滿，即：**Ⓐ ● Ⓒ Ⓓ**

以下為錯誤的畫記方式，可能導致電腦無法正確判讀。如：

- Ⓐ ● Ⓒ Ⓓ — 未將選項塗滿
- Ⓐ Ⓑ Ⓒ Ⓓ — 未將選項塗黑
- Ⓐ ● Ⓒ Ⓓ — 未擦拭乾淨
- Ⓐ ● Ⓒ Ⓓ — 塗出選項外
- Ⓐ ● ● Ⓓ — 同時塗兩個選項

請聽到鐘（鈴）響起，於試題本右上角方格內填寫准考證末兩碼，再翻頁作答

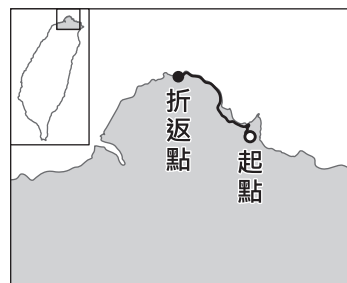
一、單題：(1~55題)

1. 目前因婚姻關係來臺灣的新移民已超過50萬人，政府透過許多方式協助他們適應臺灣社會，例如建置數位資訊平臺，以多國語文的網頁介面，提供數位學習及文化交流的空間。上述多國語文最可能涵括下列何者？

(A)俄羅斯文、德文
(B)越南文、印尼文
(C)阿拉伯文、土耳其文
(D)西班牙文、葡萄牙文

2. 圖(一)為臺灣某次馬拉松比賽路線圖，參賽者在路跑過程中，最可能看到下列何種景觀？

(A)岬角與海灣相間
(B)瀉湖、沙洲遍布
(C)大規模的隆起珊瑚礁
(D)陡直的峭壁、深切的峽谷



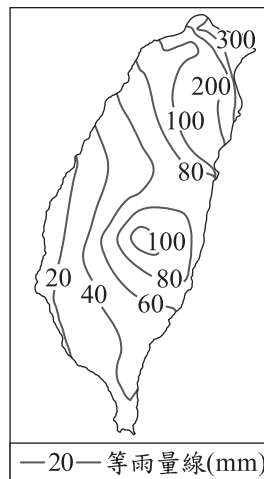
圖(一)

3. 2014年，中國與甲國簽署了乳製品的合作協議，由於甲國向來以酪農業發達著稱，兩國合作將有助於提高中國乳製品的品質與產量。甲國最可能為下列何者？

(A)北韓
(B)荷蘭
(C)泰國
(D)挪威

4. 圖(二)為臺灣某月分的月平均等雨量線圖，根據圖中雨量的分布狀況判斷，該月分臺灣的氣候特色為下列何者？

(A)高溫多對流雨
(B)易形成滯留鋒
(C)東北季風盛行
(D)易受颱風侵襲



圖(二)

5. 某國的國旗以白色為底，上有藍色十字，充分展現該國的自然與人文特色。因該國有四分之一的國土在北極圈內，氣候寒冷，故白色象徵冬季白雪覆蓋的國土；藍色象徵境內廣布的冰蝕湖、河流；十字表示該國在歷史上與其他北歐鄰國的密切關係。上文是在介紹何國的國旗？

(A)丹麥
(B)芬蘭
(C)瑞士
(D)俄羅斯

6. 下列為臺灣某份刊物上刊載的文章：

今日針對普及衛生思想，監督指導的單位須以身作則，首先應喚起市街庄行政人員的自覺，有效配合地方上保甲的力量。此外，藉由小學校、公學校對衛生教育的提倡、社會上報章雜誌的宣傳，來提升民眾的衛生意識。


根據內容判斷，此段文章主要在討論下列何者？

- (A) 荷蘭聯合東印度公司推動衛生教育
- (B) 中華民國政府規畫與施行衛生教育
- (C) 清朝開港通商時，傳教士引進公共衛生觀念
- (D) 日本統治時期，政府與民間推廣公共衛生觀念

7. 圖(三)是某機構的性質及工作內容示意圖。據此判斷，該機構最可能為下列何者？

- (A) 郊
- (B) 公行
- (C) 市舶司
- (D) 總理各國事務衙門

郊 = 行郊



圖(三)

8. 表(一)為清朝後期幾位地方總督、巡撫的出身資料，根據內容判斷，他們得以出任總督、巡撫，與下列何者關係最密切？

- (A) 鴉片戰爭
- (B) 英法聯軍
- (C) 太平天國
- (D) 甲午戰爭

表(一)

姓名	民族	經歷	曾任職務
左宗棠	皆為漢人	皆為湘軍將領	1861年浙江巡撫
楊岳斌			1864年陝甘總督
劉坤一			1865年江西巡撫
曾國荃			1865年山西巡撫

9. 以下是中國某朝代首都的簡介：「這是一座依計畫興建的城市，城中可見基督教教堂、伊斯蘭教清真寺及佛教寺廟。朝廷聘用色目人擔任財政官員，並推行全國性紙幣政策，加上各地物資的集中，讓這座城市成為金融經濟中心。」上述城市最可能是指下列何者？

- (A) 東漢 洛陽
- (B) 唐代 長安
- (C) 北宋 汴京
- (D) 元代 大都

10. 圖(四)是某一文件的部分內容，此文件最可能是下列何者？

- (A) 日本給劉永福的勸降書
- (B) 法軍將領給清廷的戰帖
- (C) 日本給牡丹社原住民的公告
- (D) 臺灣民主國給日本總督的通牒

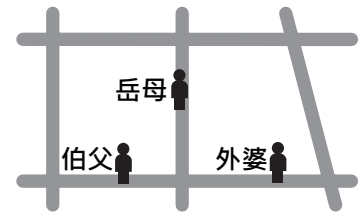
大清皇帝已割讓臺灣及澎湖群島，並派欽差大臣與本總督完授受之約。故本總督乃坐鎮臺北，安撫民眾，遂行統治。今得知您占據臺南，外無援兵，孤軍頑抗，應立即停止能體察大清皇帝聖旨，應立即停止抵抗，讓民眾免於戰火之苦。

圖(四)

11. 新聞報導：國外某一所大學在校園中舉辦臺灣文化節，多名來自臺灣的交換學生，熱情地介紹臺灣的特色美食與民情風俗，展現出臺灣多元文化的面貌，讓校內來自各國的學生驚豔不已……。根據上述報導內容判斷，下列何者最可能是校內舉辦此類活動的目的？
- (A)擴展官方外交關係
(B)促進各國文化交流
(C)調適強勢文化衝擊
(D)推動多元文化融合

12. 13歲的小婷因羨慕朋友擁有最新型的手機，於是趁體育課偷走同學留在書包中的零用錢，行竊時被返回班上的同學撞見，受害學生家長獲知後決定報警處理。根據上述內容判斷，小婷最可能會受到下列何種處分？
- (A)罰鍰一千元
(B)拘役二十五日
(C)罰金一千五百元
(D)假日生活輔導四次

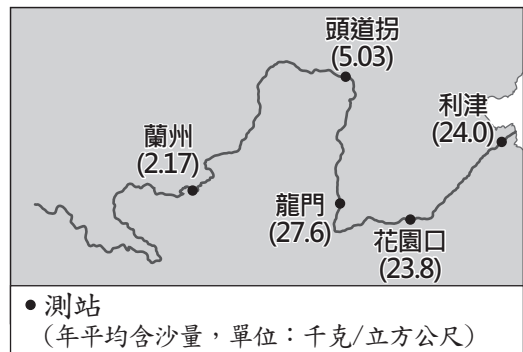
13. 力豪慢跑時遇到了三位親戚，相遇地點如圖(五)所示。若力豪與這三位親戚相遇的先後順序為旁系血親、直系血親、姻親，則他的慢跑路線最可能為下列何者？



圖(五)

- (A) (B) (C) (D)
14. 隨著網路設備與智慧型手機的普及，各種訊息的流通速度與數量已超乎我們想像，但在訊息傳遞過程中，閱聽人卻常未對其真偽加以過濾，反而間接成為散播謠言的幫兇。上述內容提醒我們應重視下列何項議題？
- (A)傳播媒體的自由
(B)資訊倫理的建立
(C)個人隱私的保障
(D)資訊科技的革新
15. 有學者認為廣告若傳達不適當的訊息，可能產生強化性別刻板印象的效果。下列廣告臺詞中，何者最可能會產生上述效果？
- (A)男女需求大不同，營養補充各取所需
(B)健康活靈芝，孝順父母親的最佳選擇
(C)體貼老婆的第一選擇，清淨牌洗衣機
(D)安康保全，守護全家人的平安與幸福

16. 圖(六)為黃河部分水文測站1950至2010年實測的年平均含沙量。從圖可知數據在龍門測站發生明顯變化，其主要原因為下列何者？



- (A)河床高於兩側地面
(B)河川上游興建水庫
(C)河川流經黃土高原
(D)乾季末期河川斷流

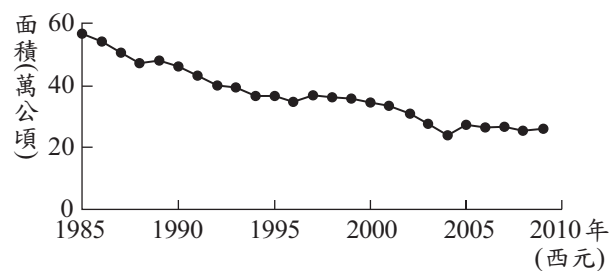
圖(六)

17. 表(二)為中國推行某項建設要達成的政策目標，此一建設最可能是下列何者？

對象	目標
對國內	推動西部大開發
	促進族群的融合
對國外	強化與中亞國家的貿易
	利於歐亞大陸經濟整合

- (A)西電東送的輸電系統
(B)南水北調的輸水工程
(C)橫貫新疆的聯外鐵路
(D)穿越高原的青藏鐵路

18. 圖(七)為1985至2009年臺灣稻作面積的變化。此變化趨勢，除了受國人飲食習慣改變的影響之外，和下列哪一項因素的關係最密切？



圖(七)

- (A)國際糧食價格升高
(B)政策輔導農業轉型
(C)大規模機械化耕作
(D)單位面積產量下降

19. 表(三)為某一個國家的簡介。根據該國的地理特徵判斷，下列何者是該國在全球氣候變遷下最可能面臨的環境災害？

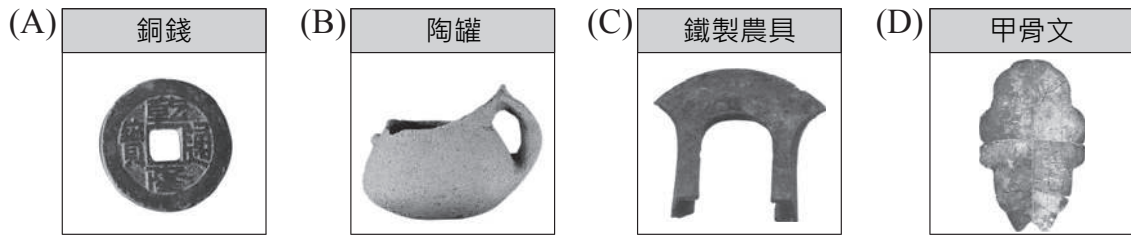
項目	說明
位置	5°S~10°S, 176°E~179°E
地形特徵	珊瑚礁島
平均高度	2至3公尺
水文特徵	全國無河流

- (A)降雨稀少致長期乾旱
(B)水患頻仍且國土萎縮
(C)土石流發生頻率增加
(D)土地沙漠化範圍擴大

20. 1868年，有外國人在臺灣旅行時發現：「這裡泉水溫度很高，可能被蒸氣燙傷，空氣中瀰漫著濃烈的硫磺味，惡劣的環境不利植物生長。周圍泉水沸騰的聲響很大，就好像地下有一個24小時運作的工作室一樣。」下列哪一離島，具有類似上述旅遊地點的地質環境？

- (A)東沙島
(B)琉球嶼
(C)龜山島
(D)金門列嶼

21. 阿華至博物館參觀卑南文化遺址的展覽，他最可能在展覽中看到哪一項該史前文化的出土文物？



22. 圖(八)描述臺灣史上某一時期的社會現象，圖中的「具體例證」，最適合填入下列何者？

- (A)地主與官府的對抗
 (B)郊商與洋商的對抗
 (C)士紳與傳教士的衝突
 (D)漳州人與泉州人的衝突

• 清朝統治時期
 • 地域觀念或祖籍意識的對抗
 • 不同群體間為了爭奪土地、水源或利益，而發生的武力衝突
 • 具體例證：_____？

圖(八)

23. 圖(九)是某史事的起源地區與傳播方向示意圖，下列何者最足以呈現該史事的內涵？

- (A)研究古典文獻，強調人文主義
 (B)路德教派改革，主張因信得救
 (C)議會政治興起，發展責任內閣
 (D)機器取代人力，出現工廠制度



圖(九)

24. 「這個時代，東亞地區充滿了變動：歐洲諸國先後來到東亞，建立商貿與傳教據點，造成不少衝擊；日本幕府為了鞏固統治，實施鎖國；至於中國，來自東北的民族建立新王朝，並對反抗勢力施行海禁政策。」上文雙底線處最可能是指下列何者？

- (A)臺灣民主國成立
 (B)林爽文結黨起兵
 (C)郭懷一號召漢人抗爭
 (D)鄭成功家族率眾起事

領主手持城堡，顯示藉城堡保護權位財產，及人民的生命安全。
 教士手持教堂，顯示其為宗教信仰的中心，以撫慰人們的心靈。



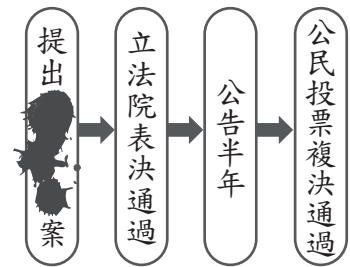
農民手持房舍，顯示其生活住處，且在鄰近的田地從事農耕。

圖(十)

25. 圖(十)為歐洲史上某時期社會的主要階層及其職責，此圖最可能是呈現下列何者的情況？

- (A)古希臘時代
 (B)羅馬共和時期
 (C)中世紀的西歐
 (D)工業革命後的英國

26. 家家在書上看到某個程序的流程圖，但其中的部分內容卻遭到汙漬遮蔽，如圖(十一)所示。根據圖中內容判斷，此圖應是下列何者的法定程序？



圖(十一)

- (A) 《民法》修正案
- (B) 《憲法》修正案
- (C) 《會計法》覆議案
- (D) 總統、副總統彈劾案

27. 下列是四位網友在網路聊天室聊天的內容，若其中一人為我國國民，僅根據他們的敘述判斷，何者在聊天當時最可能具有中華民國國籍？

- (A) 小萍：「我的出生地是美國，不過現在在臺灣工作。」
- (B) 小文：「等了五年，我下週將前往內政部申請歸化。」
- (C) 小君：「我的父母都是日本人，但我在花蓮縣出生。」
- (D) 小瑋：「我出生當天，父親正好當選嘉義縣縣議員。」

28. 圖(十二)為小江在面臨新工作機會時的選擇情況，若小江僅依薪資高低選擇薪資最高的工作，根據圖中內容判斷，甲、乙、丙工作的薪資高低關係為下列何者？



圖(十二)

- (A) 甲 > 乙 > 丙
- (B) 甲 > 丙 > 乙
- (C) 丙 > 甲 > 乙
- (D) 丙 > 乙 > 甲

29. 大南：「當監察委員通過彈劾案件後，會交由我們審理，否則即使公務員涉及違法情事，我們也不能主動對當事人的行為進行審議。」根據大南的說法判斷，他應是任職於下列哪一個機關？

- (A) 審計部
- (B) 法務部
- (C) 臺北高等行政法院
- (D) 公務員懲戒委員會

30. 阿明當選市長後，他發現市政府的財源嚴重不足，恐影響市政運作，於是設法開拓財源，表(四)是他的開源措施，其中何者是藉由公共造產方式達成目的？

表(四)

項目	開源措施
甲	向議會提案立法開徵地方稅
乙	向中央政府爭取統籌分配款項
丙	推出城市形象廣告，吸引觀光客
丁	增設漁產觀光市場，向使用者收費

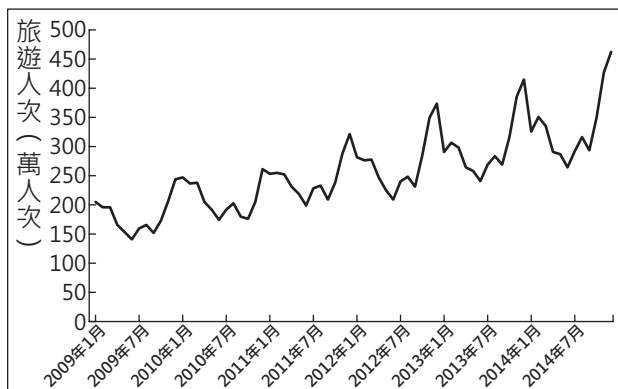
- (A) 甲
- (B) 乙
- (C) 丙
- (D) 丁

31. 表(五)是四種不同產品的特性說明。若僅考慮表中的產品特性，何者的設廠地點應盡量接近原料產地？
- (A)甲
(B)乙
(C)丙
(D)丁

表(五)

產品	特性
甲	100公斤原料可製成10公斤產品。
乙	1立方公尺原料可製成100立方公尺產品。
丙	原料加工成產品後易破碎。
丁	原料加工成產品後易腐敗。

32. 圖(十三)為中國某行政區2009至2014年接待的國內旅遊人次統計，若根據旅遊者夏季會傾向至避暑勝地，冬季則至避寒勝地旅遊的特性來判斷，右圖最可能是下列何地的資料？
- (A)山東省
(B)海南省
(C)黑龍江省
(D)西藏自治區



圖(十三)

33. 電影公司想拍攝以美國某種自然災害為主題的電影，故事背景設定在此種災害發生頻率較高的地方，圖(十四)中的甲地為最後被選擇的地點。該電影的拍攝主題最可能是下列何者？
- (A)地震 (B)颶風
(C)暴風雪 (D)龍捲風



圖(十四)

34. 隨著運輸技術的進步，人口的移動更為便捷，促使國際勞工遷徙日益頻繁。埃及可憑藉宗教文化類似和語言相同的優勢，大量輸出勞工至下列何地？
- (A)北美
(B)東亞
(C)西亞
(D)西歐

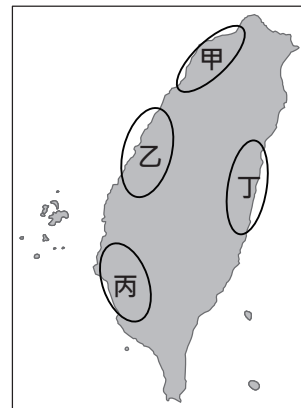
35. 表(六)為世界上兩條重要運河的資訊。若中國欲以海運出口貨物至他國，僅考量最短路徑，下列運輸路線的選擇何者正確？
- (A)經甲運河至巴西
(B)經乙運河至南非
(C)經甲運河至義大利
(D)經乙運河至沙烏地阿拉伯

表(六)

運河	連結海域
甲	太平洋與大西洋
乙	地中海與紅海

36. 1955年，亞洲、非洲許多國家在印尼召開會議，主張促進亞、非國家之間的友好合作；1960年代，印度、埃及等國發起「不結盟運動」，參與國家強調獨立自主和不與美、蘇強權結盟。上述會議與不結盟運動，最可能反映出下列何者？

- (A) 聯合國的成立
 (B) 第三世界的興起
 (C) 共產世界的瓦解
 (D) 九一一事件的影響



圖(十五)

37. 十八世紀時，有一位歐洲貴族乘船漂流至臺灣某地區，發現清廷並未在該地區設置廳、縣治理，因此當他返回歐洲後，大力遊說各國派兵來此區建立殖民地。上述「未設置廳、縣治理」的地區，最可能是圖(十五)中甲、乙、丙、丁何處？


- (A) 甲 (B) 乙 (C) 丙 (D) 丁

38. 「二十世紀初，清廷與某國簽訂『中越交界禁止革命黨章程』，要求該國官員協助查辦在中越邊境活動的革命份子，若有人在越南境內傳播對清廷不利的言論，則依照該國的律例加以懲治。」上文中的「某國」最可能是下列何者？

- (A) 日本 (B) 英國
 (C) 法國 (D) 美國

39. 圖(十六)是一幅宣傳海報，此宣傳海報最早可能在下列何時何地傳布？

- (A) 1919-1930年的臺北
 (B) 1949-1960年的臺北
 (C) 1916-1928年的瀋陽
 (D) 1932-1945年的瀋陽



圖(十六)

40. 小杜向朋友借一部影集回家觀賞，影集內容與一件刑事案件有關，但因包裝盒破損，僅剩部分劇情說明可辨識，如表(七)所示。根據我國現行法律判斷，若將四張光碟片按照案件處理的先後次序排列，則其順序應為下列何者？

- (A) 丙、乙、丁、甲
 (B) 丁、丙、乙、甲
 (C) 丙、丁、乙、甲
 (D) 乙、丙、甲、丁

表(七)

光碟	劇情說明
甲	……只剩這個機會，法院能否推翻先前判決還他清白……。
乙	……歷經多次開庭，地方法院的法官即將作出判決……。
丙	……他因涉嫌殺人被提起公訴，該如何面對接下來……。
丁	……雖然已決定上訴，但對於未來的結果並沒有把握……。

41. 表(八)為某餐館三項餐點的部分資料，每一項餐點的售價均為50元，其總利潤高低依序為湯麵、雞排、炒飯。根據上述內容判斷，表中的甲、乙最可能為下列何者？

- (A)甲：20，乙：45 (B)甲：20，乙：55
(C)甲：15，乙：45 (D)甲：15，乙：55

表(八)

餐點種類	銷售數量(份)	成本(元/份)
雞排	100	30
湯麵	60	甲
炒飯	乙	10

42. 甲、乙、丙三人的居住地資料如表(九)，近日三人分別向當地選出的民意代表陳情，希望他們能反映民情。根據表中資料判斷，此三人所陳情的對象，最可能分別為下列何者？

- (A)甲：市民代表，乙：市議員，丙：立法委員
(B)甲：市議員，乙：市民代表，丙：立法委員
(C)甲：立法委員，乙：市民代表，丙：市議員
(D)甲：市議員，乙：立法委員，丙：市民代表

表(九)

居民	居住地
甲	高雄市
乙	新竹市
丙	花蓮縣花蓮市

43. 我國某鎮鎮長表示：「鬧區停車位並未收費，因而被部分民眾長期占用，導致購物、洽公的民眾常在找不到停車位的情況下，隨意違規停車，對街道景觀與交通安全造成影響，所以有必要實施停車收費政策。」根據上述內容判斷，下列何者正確？

- (A)文中的政府收入將使地方稅收增加
(B)立法院依法有權可監督新政策的實施
(C)文中行政首長的參選年齡門檻為三十歲
(D)新政策的執行將有助於降低外部成本發生

44. 小霏蒐集了許多社會紛爭事件的資料，將其分類後，結果如表(十)所示。根據表中資訊判斷，下列說明何者正確？

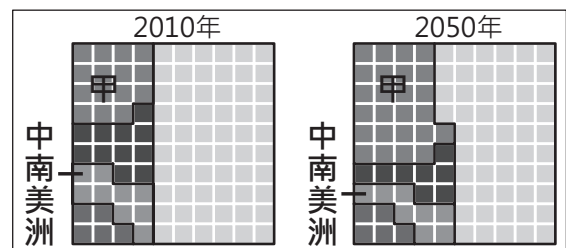
- (A)檢察官應主動進行偵查的件數共40件
(B)可經由和解方式直接解決的件數共35件
(C)應由普通法院進行訴訟審理的件數共65件
(D)當事人可聲請調解委員會調解的件數共75件

表(十)

事件類別	件數(件)
民事事件	35
告訴乃論 刑事案件	40
非告訴乃論 刑事案件	25

45. 圖(十七)為2010年及聯合國預測2050年時，亞洲、非洲、歐洲、北美洲、中南美洲各洲的人口占世界總人口的比例分布狀況。圖中五個區塊分別代表各洲，甲區塊應是指下列何者？

- (A)亞洲 (B)非洲
(C)歐洲 (D)北美洲



圖(十七)

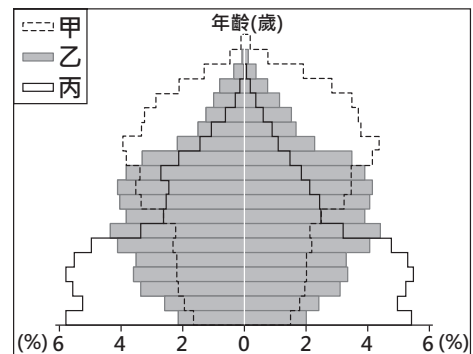
46. 采晴計畫與家人一同出國旅遊，上網蒐集該地的氣候資料，如表(十一)所示。根據表中資料，采晴最可能在當地看到下列何種景觀？
- (A)一望無際的葡萄園、橄欖園
 (B)仙人掌散布在連綿的沙漠中
 (C)高低成層、樹冠茂密的雨林
 (D)稀疏的樹木點綴於高草原上

表(十一)

項目 \ 月分	1月	7月	全年
平均氣溫(°C)	26.9	22.6	25.4
降水量(mm)	306.3	4.7	1032.6

47. 交通部觀光局邀請日本知名藝人為臺灣拍攝觀光宣傳影片，以吸引日本人來臺旅遊，但在宣傳活動的某段期間，因匯率劇烈波動，反而導致當時日本人來臺旅遊人次呈現負成長。上述觀光局作法所希望影響的消費行為因素，與該段期間匯率變化的情況，最可能為下列何項組合？
- (A)預期心理、新臺幣相對日幣升值
 (B)預期心理、新臺幣相對日幣貶值
 (C)個人偏好、新臺幣相對日幣升值
 (D)個人偏好、新臺幣相對日幣貶值


48. 某國受到人口結構改變的衝擊，長期照護、專屬旅遊、到府清潔、就醫接送等「陪伴商機」也應運而生。圖(十八)為該國不同時期的人口金字塔，該國出現上述陪伴商機最可能是因為其人口結構如何轉變？
- (A)由甲轉變成乙 (B)由甲轉變成丙
 (C)由乙轉變成甲 (D)由乙轉變成丙



圖(十八)

49. 圖(十九)是正雄在書中看到關於某國際組織的簡介，根據內容判斷，這最可能是在介紹下列何者？
- (A)聯合國
 (B)歐洲聯盟
 (C)北美自由貿易區
 (D)亞太經濟合作會議

它所在的地區，在地理位置上大致為東鄰大陸、西瀕海洋，組織內的人民雖然分屬不同國籍，但許多人使用共同的貨幣，而且人員、貨物可以自由流通，不必額外負擔關稅，可說是區域整合相對成功的例子。

 北美自由貿易區
 =北美自由貿易協定

圖(十九)

50. 「君王集軍政大權於一身，其下有輔助推動政務的宰相，以及漸趨系統化和專業化的文武官員，地方上的郡縣長官也由君王直接任命。這些大小官員大部分不再是憑藉血緣世襲的封建貴族，而是平民出身的才學之士。」上文最能說明中國歷史上何種情況的發展？
- (A)世族社會的出現 (B)地方勢力的割據
 (C)君主立憲的實施 (D)中央集權的形成

51. 圖(二十)是小月在參與課堂活動時所製作的海報，根據海報內容判斷，下列哪一現象最可能在小月的家鄉出現？

- (A)當地人口拉力比較大
(B)第二級產業比例增加
(C)社區發展成果豐碩
(D)折衷家庭型態居多

我的家鄉

1.人口結構
居民多為老人及幼童，大多數的年輕人都住在外地工作，只有逢年過節才返鄉。

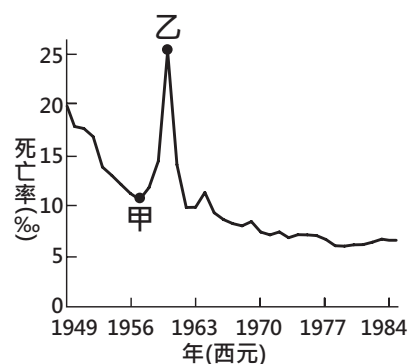
2.產業類型
居民多從事養殖漁業的工作，路旁有各種魚塭，常能吃到新鮮的海產。

3.地方特色
居民共同運用本地產品，經常舉辦料理競賽，形成海產市集，帶來大批遊客，成為知名景點。

圖(二十)

52. 圖(二十一)是參考某段期間中國人口死亡率估算值而繪製的曲線圖，圖中甲、乙二點之間死亡率的變化，最可能與下列何者有關？

- (A)人民響應抗美援朝，參與韓戰而造成傷亡慘重
(B)大躍進運動期間，政策失當所導致的嚴重饑荒
(C)文化大革命時，紅衛兵鬥爭造成眾多人口死亡
(D)六四天安門事件爆發，政府鎮壓大量抗議群眾



圖(二十一)

53. 西元前四世紀，亞歷山大創立跨歐、亞、非的帝國，並在其征服的疆域內興建城市。圖(二十二)中的甲、乙、丙、丁，何者最可能是他所興建的城市？

- (A)甲
(B)乙
(C)丙
(D)丁



圖(二十二)

54. 甲國的經濟結構原以蔗糖業為主，冷戰期間受到鄰近強國的經濟制裁，後經蘇聯經濟援助，其蔗糖業曾有輝煌的發展。但自蘇聯解體後，失去來自蘇聯的經濟援助，加上乾旱、颶風、國際糖價持續低迷和能源短缺等因素，使該國的蔗糖業陷入衰退。2011年該國政府實施糖業改革，積極投入生質能源的開發，利用甘蔗渣發電，帶動蔗糖業的另一波商機。甲國最可能是下列何者？

- (A)巴西
(B)古巴
(C)北韓
(D)波蘭

55. 這個國家仿效羅馬帝國擴張的模式，在各個征服地區建立城市，作為行政、軍事和經濟中心：部分征服地區是以既存的城市為基礎，如墨西哥城；多數征服地區則是建立新的城市，城內有著規則的街道網絡，如位於加勒比海的聖雅各騎士城(今多明尼加共和國境內)，及中美洲的瓜地馬拉城等。這個國家最可能是下列何者？
- (A)十世紀的神聖羅馬帝國
 (B)十三世紀的印加帝國
 (C)十六世紀的西班牙
 (D)十九世紀的美國

二、題組：(56~63題)

閱讀下列選文，回答第 56 至 58 題：

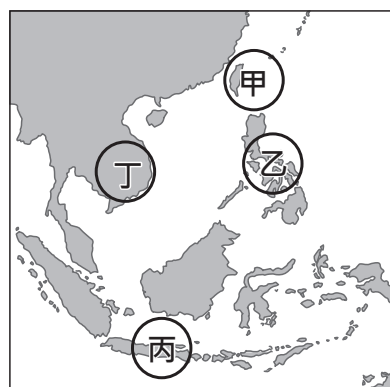
畢道文的家鄉自十七世紀以來長期受荷蘭殖民，從醫科學校畢業後，他即前往荷蘭深造，並積極參與反荷蘭統治、支持家鄉獨立的政治運動。

第一次世界大戰後，西班牙的社會主義者掌控了政府。1936年，主張反共的西班牙法西斯黨人發動奪權，企圖推翻政府，並得到二個同樣反共的極權統治國家的軍事援助；畢道文和許多國際志願軍因同情西班牙政府，則加入了反法西斯陣營，投身於西班牙內戰，擔任國際志願軍的隨隊醫生貢獻心力。

之後，畢道文轉往中國，參與對日作戰。第二次世界大戰結束後，他繼續留在中國，參與聯合國善後救濟總署，協助中國重建。畢道文一生獻身於革命，以超越種族與國籍的行動，追求個人崇高的理想。

56. 畢道文的家鄉最可能位於圖(二十三)中甲、乙、丙、丁何處？

- (A)甲 (B)乙
 (C)丙 (D)丁



圖(二十三)

57. 上文提及有二個國家軍事援助西班牙的法西斯黨人，此二個國家最可能是下列何者？

- (A)美國、英國
 (B)日本、蘇聯
 (C)蘇聯、德國
 (D)德國、義大利

58. 根據上文雙底線處的內容判斷，畢道文的作為，最可能是符合馬斯洛需求層次理論的哪一層次？

- (A)生理需求
 (B)安全需求
 (C)尊重需求
 (D)自我實現需求

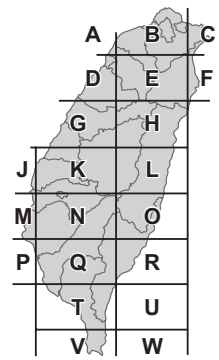
需求層次理論 = 個人需求層次理論

閱讀下列選文，回答第 59 至 60 題：

臺灣的電線桿或配電箱，大多標有由英文字母和數字組成的雙排編號，共9碼或11碼，此編號為「電力坐標」，如圖(二十四)所示。坐標中的英文字母和數字乃根據固定的規則編碼，例如第一個英文字母代表分區坐標區塊，對照圖(二十五)即可大略知道位於臺灣何處。電力坐標經過簡單的換算，可以轉換成臺灣常用的坐標系統。因此，民眾只要向救難單位報出電力坐標，救難人員就可依此坐標精準確認地點。



圖(二十四)



圖(二十五)

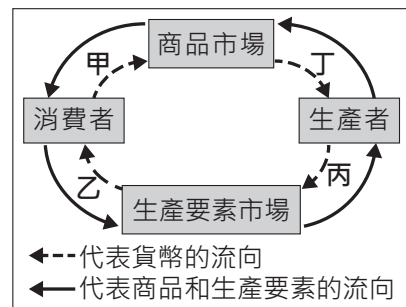
59. 位置的表示法可分為絕對位置和相對位置。上文介紹電線桿上的編號與下列何者的表示法相同？
- (A)綠島位在墾丁國家公園的東北方
 (B)彰化車站距離員林車站15公里
 (C)東華大學位在花蓮縣壽豐鄉大學路二段1號
 (D)臺北市政府大樓位在101大樓北方300公尺處
60. 圖(二十四)電線桿上的編號對照圖(二十五)判斷，其位在下列何處的可能性最高？
- (A)苗栗縣 (B)桃園市 (C)嘉義縣 (D)雲林縣

閱讀下列選文，回答第 61 至 63 題：

知名紀錄片《看見臺灣》，以直升機空拍的創新手法拍攝，讓觀眾深受震撼與感動，許多民眾也起而效法想運用空拍機來記錄生活的點滴，使得空拍機一時成為市場上的熱銷商品。

空拍機自由飛行、突破地表障礙的特性雖然迷人，但最近因有民眾使用空拍機時，違反了《民用航空法》而遭到主管機關開罰，此一事件引發社會大眾關切空拍機可能侵犯隱私、失控墜落、影響飛安等問題，也凸顯現有法令尚未完備，因此各界呼籲中央政府機關應盡速通過三讀程序，修訂相關法律加以規範。

61. 文中第一段所呈現的市場變化，將最先反應在圖(二十六)中的那一區段？
- (A)甲 (B)乙 (C)丙 (D)丁
62. 關於文中遭開罰者「所應負起之責任類型」與「權利救濟方式」的搭配，下列何者正確？
- (A)刑事責任，聲請調解 (B)刑事責任，提起訴訟
 (C)行政責任，提起訴願 (D)行政責任，提出請願



圖(二十六)

63. 文末所提及的中央政府機關，其職權包括下列何者？
- (A)提出糾正案 (B)提出不信任案
 (C)依法律推行政策 (D)統一解釋法律命令